

# Desafíos matemáticos

Inicio

Instrucciones



**Resuelve las  
siguientes  
situaciones  
eligiendo la  
respuesta  
correcta.  
¡éxito!!**



**inicio**

Alejandro tiene 5 carros rojos y su papá le regalo 3 carros azules.  
¿Cuántos carros ahora tiene Alejandro?

6

8

7



iiLo lograste!!

continuar



ii Sigue intentado!!

regresar




Ena tiene 8 gatitos pero decidió dar en adopción 6 ¿con cuántos gatitos se quedo?

4

5

2



iiLo lograste!!

continuar




ii Sigue intentado!!

[regresar](#)





Isaías quiere comprar un yoyo que vale \$8 pesos, elige con que monedas debe pagar.



¡¡Lo lograste!!

continuar



ii Sigue intentado!!

regresar



Gabriel gano 9 canicas y las quiere guardar por partes iguales en 3 costales, ayúdale a saber cuántas canicas debe tener cada costalito.



4

2

3



¡¡Lo lograste!!

continuar




ii Sigue intentado!!

regresar



Si vas a la tienda y compras unas papas y un yogurt cuánto dinero pagarías.



$$\begin{array}{r} \$1 \\ \hline 2 \\ \hline \end{array}$$

$$\begin{array}{r} \$1 \\ \hline 1 \\ \hline \end{array}$$

$$\begin{array}{r} \$9 \\ \hline \end{array}$$



¡¡Lo lograste!!

continuar






ii Sigue intentado!!

regresar



Ximena juega serpientes y escaleras, en el primer tiro saca 6 puntos y avanza a la casilla 6, en el segundo tiro le salen 5 puntos ¿en que casilla se encuentra ahora?



10

8

11



¡¡Lo lograste!!

continuar




ii Sigue intentado!!

regresar



Juanita fue al mercado y compro 4 manzanas, 2 peras, 3 plátanos, 1 piña y 3 naranjas ¿Cuántas frutas compro Juanita?



13

7

10



# iiReto cumplido!!

Creadora Profa. Luisa  
Ivonne Castillo Carranza



**¡¡Sigue intentado!!**

**regresar**

